

# KHỞI ĐỘNG



TRÒ CHƠI:

NÔNG TRẠI VUI VẺ



# LUẬT CHƠI

Các em hãy trả lời đúng các câu hỏi để giúp bác nông dân thu hoạch nông sản nhé!

Start



1

2


3

4

5



HỌC TIẾP



$25 - 8 = ?$

A

16

B ✓

17

C

18

D

19





$57 - 9 = ?$

A

45

B

47

C

46

D

48



$50 - 9 = ?$

A

41



B

40


C

42

D

43





$60 - 8 = ?$

A

51

B 

52

C 

50

D

53



$30 - 7 = ?$

A

21

B

22

C

23



D

24



Thứ ... ngày ... tháng ... năm

# Toán

## BÀI 23: PHÉP TRỪ (CÓ NHỚ) SỐ CÓ HAI CHỮ SỐ ƯỚI SỐ CÓ HAI CHỮ SỐ



# KHÁM PHÁ



Em gửi 15 bắp ngô.

Anh gửi 42 bắp ngô.

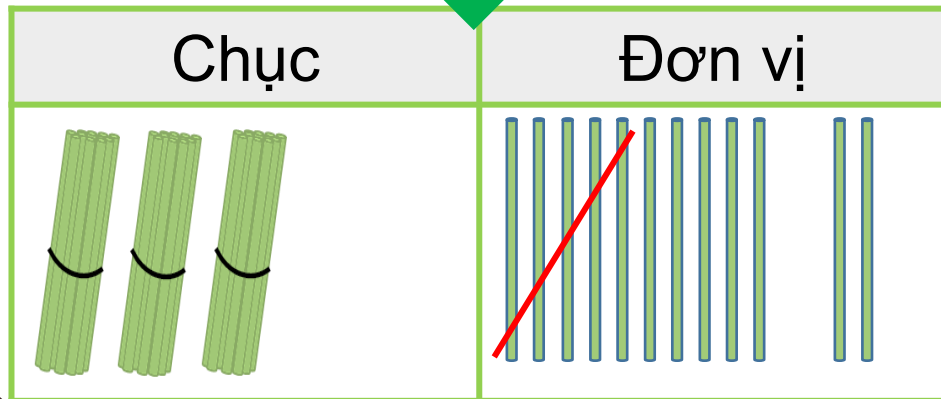
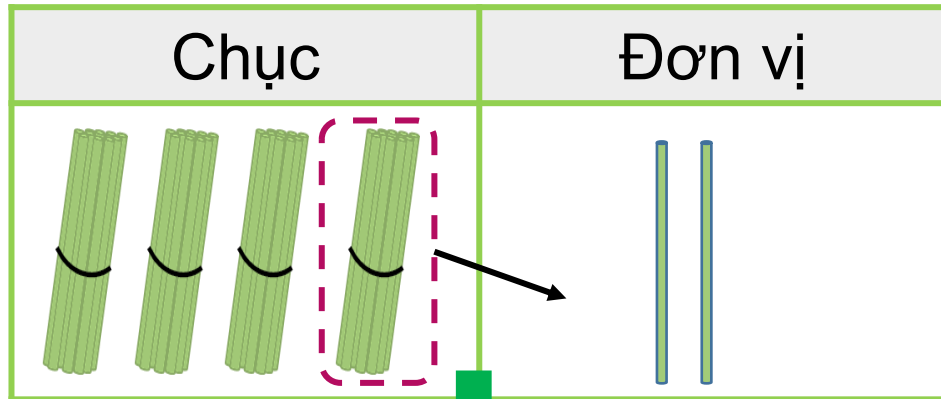
Anh gửi nhiều hơn em  
bao nhiêu bắp ngô?





Khám phá

$$42 - 15 = ?$$



Anh gửi 42 bắp ngô.

Em gửi 15 bắp ngô.

Anh gửi nhiều hơn em bao nhiêu bắp ngô?



$$\begin{array}{r} 42 \\ - 15 \\ \hline 27 \end{array}$$

- 2 không trừ được 5, lấy 12 trừ 5 bằng 7, viết 7, nhớ 1
- 4 trừ 1 bằng 3, 3 trừ 1 bằng 2, viết 2

$$42 - 15 = 27$$



# HOẠT ĐỘNG





1

$$\begin{array}{r} 72 \\ - 19 \\ \hline \end{array}$$

$$\begin{array}{r} 60 \\ - 28 \\ \hline \end{array}$$

$$\begin{array}{r} 93 \\ - 46 \\ \hline \end{array}$$

$$\begin{array}{r} 41 \\ - 32 \\ \hline \end{array}$$

$$72 - 19$$

$$\begin{array}{r} 72 \\ - 19 \\ \hline 53 \end{array}$$

Nháp

$$12 - 9 = 3$$

○ **Mượn 1**

$$60 - 28$$

$$\begin{array}{r} 60 \\ - 28 \\ \hline 32 \end{array}$$

Nháp

$$10 - 8 = 2$$

○ **Mượn 1**

$$93 - 46$$

$$\begin{array}{r} 93 \\ - 46 \\ \hline 47 \end{array}$$

Nháp

$$13 - 6 = 7$$

○ **MU'Ợ'N 1**


$$41 - 32$$

$$\begin{array}{r} 41 \\ - 32 \\ \hline 09 \end{array}$$

Nháp

$$11 - 2 = 9$$

○ **MU'Ợ'N 1**



Qua bài tập các em được củng cố cách đặt tính phép trừ có nhớ số có hai chữ số với số có hai chữ số.

**2** Đặt tính rồi tính.

$63 - 36$

$72 - 27$

$54 - 16$

$80 - 43$




## 2. Đặt tính

$$\begin{array}{r} 63 \\ - 36 \\ \hline 27 \end{array}$$

$$\begin{array}{r} 72 \\ - 27 \\ \hline 45 \end{array}$$


$$\begin{array}{r} 54 \\ - 16 \\ \hline 38 \end{array}$$

$$\begin{array}{r} 80 \\ - 43 \\ \hline 37 \end{array}$$



**Hoan hô!**  
**Các bạn thật tuyệt vời!**





Qua bài tập các em được củng cố cách đặt tính phép trừ có nhớ số có hai chữ số với số có hai chữ số.



## hoạt động

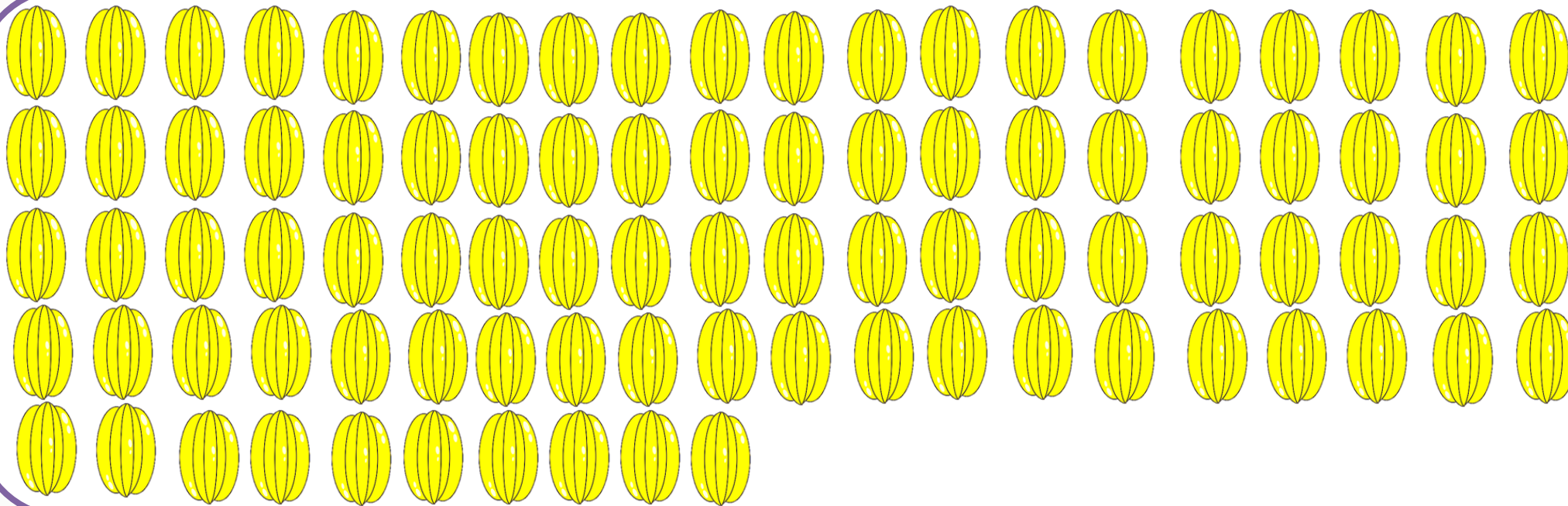
- 3 Trên cây khế có 90 quả. Chim thần đã ăn mất 24 quả.  
Hỏi trên cây còn lại bao nhiêu quả khế?



Bài toán  
hỏi gì?



## Cây khế có tất cả 90 quả



Chim thần ăn mất  
24 quả khế



$$90 - 24 = ?$$




## *Bài giải*

Trên cây còn lại số quả khế là:

$$90 - 24 = 66 \text{ (quả)}$$

Đáp số: 66 quả khế.



Qua bài tập các em được củng cố phép trừ có nhớ số có hai chữ số với số có hai chữ số vào bài toán giải có lời văn.

# VẬN DỤNG





Khi thực hiện phép trừ (có nhớ)  
Bài học hôm nay em biết  
số có hai chữ số cho số có hai  
chữ số cần được điều gì?  
chữ số cần lưu ý gì ?



# TRÒ CHƠI: VÀO RỪNG HẢI NẤM





# Luật chơi:

Khi một bạn ong bay ra mang theo một thẻ câu hỏi, bạn hãy giúp cô bé quàng khăn đỏ tìm và hái cây nấm chứa đáp án đúng nhé!



57

56

55



27

26

28



25

26

24



**Cảm ơn  
các bạn rất  
nhiều nhé!**

**XIN CHÀO VÀ  
HẸN GẶP LẠI!**

